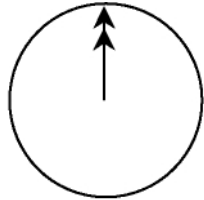


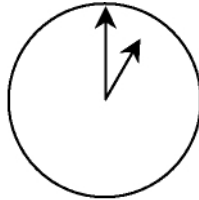
## CHATEAR

Mark (de Sydney, Australia) y Hans (de Berlín, Alemania) se comunican a menudo a través de Internet mediante el chat. Tienen que conectarse a Internet a la vez para poder "chatear".

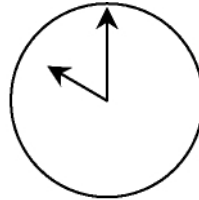
Para encontrar una hora apropiada para chatear, Mark buscó un mapa horario mundial y halló lo siguiente:



Greenwich 12 de la noche



Berlín 1:00 de la noche



Sydney 10:00 de la mañana

### Pregunta 1:

Cuando son las 7:00 de la tarde en Sydney, ¿qué hora es en Berlín? Respuesta:

.....

### Pregunta 2:

Mark y Hans no pueden chatear entre las 9:00 de la mañana y las 4:30 de la tarde, de sus respectivas horas locales, porque tienen que ir al colegio. Tampoco pueden desde las 11:00 de la noche hasta las 7:00 de la mañana, de sus respectivas horas locales, porque estarán durmiendo. ¿A qué horas podrían chatear Mark y Hans? Escribe las respectivas horas locales en la tabla.

| Lugar  | Hora |
|--------|------|
| Sydney |      |
| Berlín |      |